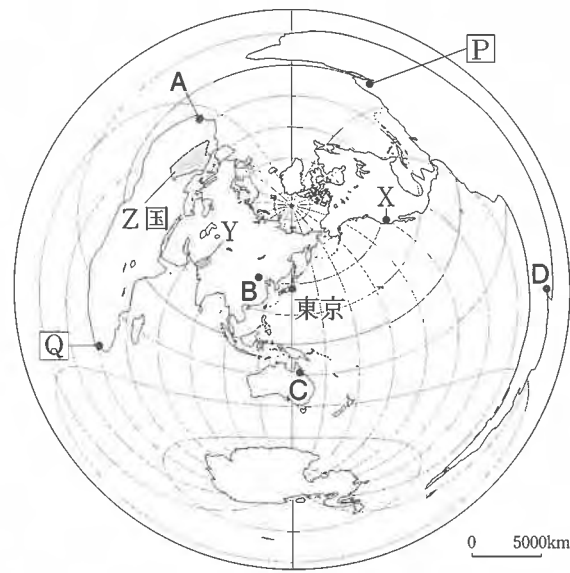


社 会 (45分)

1 次の図は、東京からの距離と方位が正しい略地図である。①～⑥に答えなさい。
なお、緯線と経線はいずれも20度間隔である。

- ① 図中のA～Dの都市を、東京からの距離が近いものから順に並べたとき、3番目になるものは、A～Dのうちのどれですか。一つ答えなさい。
- ② 図中の六つの大陸のうち、三つの大洋に面し、実際の陸地面積が最も大きい大陸を何といいますか。
- ③ 東京にいる人が、衛星中継で図中の都市Xの様子を伝える映像を、東京の時間で午前5時に見ている。衛星中継が生放送であるとき、見ることのできる様子として最も適当なのは、ア～エのうちではどれですか。一つ答えなさい。なお、標準時の基準となる経線は、東京は東経135度であり、都市Xは西経120度とする。また、サマータイムは考えないものとする。



(注) 緯線は緯度80度までを描いている。
図

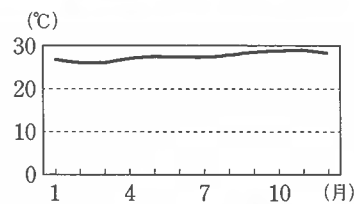
- ア 朝日を浴びてランニングをする人々
- イ 真昼の野球の試合で放たれたホームラン
- ウ 夕日のなかを飛び立つ飛行機
- エ 真夜中に高速道路を走る自動車

④ 図中のYは、古代文明の一つがさかえた地域の大まかな範囲を示したものである。紀元前2500年から紀元前2300年ごろに生まれ、計画的な都市と独自の文字をもつこの文明を何といいますか。



⑤ 右の写真は、図中のZ国でくらす人々の生活の一部を撮影したものである。水や草を求めて、季節的に移動しながら家畜を飼育する牧畜を何というか。漢字二字で書きなさい。

⑥ 右のグラフは、図中のP, Qのいずれかの都市の月別平均気温を表したものである。このグラフは、いずれの都市のものでしょうか。当てはまる記号と、そのように判断した理由をそれぞれ書きなさい。なお、判断した理由は、グラフの特徴と、選んだ都市の緯度を基準とした地球上での大まかな位置をふまえて書きなさい。



(注) 統計年次は2012年。
(気象庁 Web ページから作成)

2 我が国の近現代の歴史に関わる船や造船業について、①～⑤に答えなさい。

- ① 右の絵は、江戸時代末期にペリーの艦隊が我が国に来航した時の様子を描いたものの一部である。ペリーを我が国に派遣した国のできごととして最も適当なのは、ア～エのうちではどれですか。一つ答えなさい。
ア 南北戦争がおこって、北部が南部に勝利した。
イ 社会権を保障したワイマール憲法を制定した。
ウ 革命が進むなか、ナポレオンが政権を握った。
エ アヘン戦争に勝利して、南京条約を結んだ。
- ② 明治政府は、殖産興業政策を進めるため各地に製糸場、紡績所、造船所などを建設したり、整備したりした。明治政府が、欧米の技術を取り入れて建設、整備したこのような工場を何といいますか。
- ③ 第一次世界大戦後の造船業についてまとめた次の文章中の(a)には当てはまることばを、(b)には当てはまる内容を「海軍」ということばを用いて書きなさい。



第一次世界大戦が終わると、日本は不景気となり、造船業界の市場も縮小した。1921年から翌年にかけて開催されたワシントン会議では、日露戦争前に結ばれた(a)同盟を解消するだけでなく、日本など5か国の(b)ことなどが取り決められた。この取り決めにより、さらに経営が苦しくなった造船所もあった。

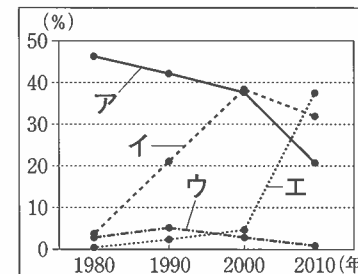
④ 右は、現在、横浜港で保存・公開されている氷川丸の現役時代の写真と氷川丸の略年表である。次のIとIIのできごとが当てはまる期間として最も適当なのは、略年表中のア～エのうちではどれですか。それぞれ一つ答えなさい。



1930年	完成。外国航路に就航。	↑	ア
1941年	日米開戦の直前に、日本海軍の病院船となる。		
1945年	終戦により海外から帰国する人々の輸送などを行う。	↑	ウ
1949年	不定期で外国航路に復帰。		
1960年	運航終了。	↑	エ
1961年	横浜港につながれ、現在に至る。		

- I：高度経済成長がはじまった。
- II：国家総動員法が制定された。

⑤ 右の資料1は、日本、中国、韓国、ドイツについて、世界に占める造船竣工量の割合の推移を、資料2は、これら4か国の粗鋼生産量の推移をまとめたものである。この二つの資料から、次のような(情報)を読み取ることができた。このとき、韓国に該当するのは、ア～エのうちではどれですか。一つ答えなさい。なお、資料1、資料2のア～エは、それぞれ同じ国を示している。



資料1

(注) 竣工とは工事が終わること。粗鋼とは鉄鉱石などからつくる鉄などのこと。1980年、1990年のドイツの数値は、旧西ドイツのものである。

国	年	1980	1990	2000	2010
ア		111	110	106	110
イ		9	23	43	59
ウ		44	38	46	44
エ		37	66	129	639

(単位：百万t)

資料2

(「世界国勢図会 2014/15年版」から作成)

(情報)

- ドイツは、世界に占める造船竣工量の割合が、四つの年すべてで、日本を上回ったことはない。
- 日本は、粗鋼生産量が、四つの年すべてで、韓国を上回っている。

3 中学生の真一さんと美佳さんは、近畿地方について調べた。①、②に答えなさい。

① 真一さんは、近畿地方の地図を集めて、その読み取りを行った。(1)～(3)に答えなさい。

(1) 図1は、平成19年発行の2万5千分の1の地形図の一部である。図1から読み取ることのできるものとして最も適当なのは、ア～エのうちではどれですか。一つ答えなさい。

- ア 図書館はひょうたんやま駅から見て南にある。
- イ 博物館(美術館)は、標高100m付近にある。
- ウ 病院は見られない。

エ AとBの郵便局は地形図上での直線距離が約2.5cmだったので、実際の距離は約2kmである。

(2) 図2は、明治44年発行の地形図の一部である。真一さんは、川が山間部から平野や盆地に出たところに形成される地形を見つけた。真一さんが見つけた、図2のX付近に広がる地形を何といいますか。

(3) 真一さんが集めた地図の中には、自然災害により被害が発生しそうなところを予測して、避難場所などをあらわした地図がある。地方公共団体などが作成し、配布が進んでいるこのような地図を何というか。カタカナで書きなさい。

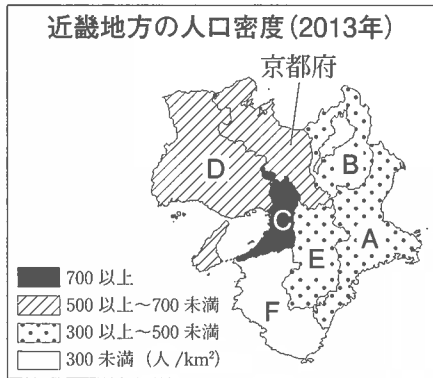
② 美佳さんは、近畿地方の人口をテーマに統計資料を調べて、次の資料1～資料3を作成した。(1)、(2)に答えなさい。なお、資料1～資料3のA～Fは、それぞれ同じ府県を示している。



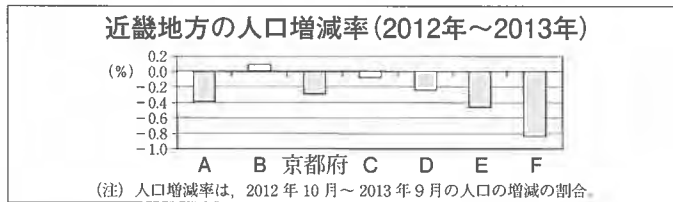
図1



図2



資料1



資料2

近畿地方の人口と高齢化率(2013年)

	A	B	京都府	C	D	E	F	全国平均
人口(千人)	1 833	1 416	2 617	8 849	5 558	1 383	979	
高齢化率(%)	26.2	22.5	25.8	24.7	25.3	26.7	29.4	25.1

資料3

(資料1～資料3は、「日本国勢図会 2014/15年版」から作成)

(1) Bの県庁所在地の都市名を書きなさい。
 (2) 資料1～資料3から読み取ることのできるものとして適当なのは、ア～オのうちではどれですか。当てはまるものをすべて答えなさい。

- ア 人口密度が最も低い府県は、人口増減率がマイナスであり、近畿地方で高齢化率が最も高い。
- イ 人口が京都府より少ない府県はすべて、京都府より人口密度と高齢化率が低い。
- ウ 人口密度が最も高い府県は、近畿地方で人口が最も多く、高齢化率は最も低い。
- エ 高齢化率が全国平均より低い府県はすべて、2012年から2013年にかけて人口が減少した。
- オ 人口密度が500人/km²以上700人/km²未満の府県はすべて、人口増減率がマイナスであり、高齢化率も全国平均より高い。

4 中学生の弘美さんは、歴史の授業で武士について学んだことがきっかけで、我が国の武具に関心をもち、その歴史を調べた。次は、弘美さんが調べたことをまとめたノートの一部である。①～⑥に答えなさい。

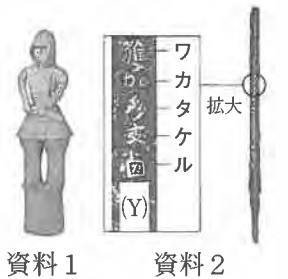
我が国の武具の歴史

【古代】 (a)古墳時代の遺跡から武具が出土している。律令国家では (b)人々に兵役が課せられたが、その際には、武具の持参が原則とされた。
 【中世】 (c)武士の成長とともに、(d)鎌倉時代には武具の生産がいっそうさかんになった。戦国時代に、ヨーロッパ人から鉄砲が伝わると、戦い方や武具に変化が現れた。
 【近世】 一時期を除いて、大きな戦乱がなかった (e)江戸時代にも、刀やよろい・かぶとなどの武具は、武士にとって引き続き大切なものとされた。
 【近代】 明治時代になると、(f)士族も刀を持ち歩くことを禁止する廃刀令が出された。軍隊の装備が近代化し、伝統的な武具の地位は低下した。

① 下線部(a)に関連して、弘美さんは次の事例を紹介した。X, Yに当てはまることばの組み合わせとして最も適当なのは、ア～エのうちではどれですか。一つ答えなさい。

資料1は、武具を身につけたXで、各地の古墳から出土しています。資料2の鉄剣は、関東地方の古墳から出土したもので、Yの名と文が記されており、大和政権(ヤマト王権)の発展を推測させます。

- ア X: 土偶, Y: 大王
- イ X: 土偶, Y: 執権
- ウ X: 埴輪, Y: 大王
- エ X: 埴輪, Y: 執権



② 下線部(b)に関連して、古代に九州北部の警備をした兵士を何といいますか。
 ③ 下線部(c)に関連して、次のア～エのできごとを、年代の古いものから順に並ぶように記号で答えなさい。

- ア 織田信長が今川義元を破った。 イ 平清盛が太政大臣になった。
 - ウ 北条泰時が御成敗式目(貞永式目)を定めた。 エ 平将門が関東で反乱をおこした。
- ④ 下線部(d)に関連して、鎌倉時代の社会の説明として最も適当なのは、ア～エのうちではどれですか。一つ答えなさい。
- ア 各地で土一揆がおこり、幕府に徳政令を出すことを要求するなどした。
 - イ 地頭として任命された武士たちが、荘園の土地や農民への支配を強めた。
 - ウ 新田開発により農地が増加し、備中ぐわや千歯こきなどの農具も普及した。
 - エ 貿易で発展した堺や博多では、有力な商工業者によって、自治が行われた。

⑤ 下線部(e)に関連して、元禄文化がさかえた時期のできごととして最も適当なのは、ア～エのうちではどれですか。一つ答えなさい。

- ア 近松門左衛門が人形浄瑠璃の台本を書いた。 イ 雪舟が水墨画の作品を残した。
- ウ 紀貫之らが『古今和歌集』をまとめた。 エ 親鸞が浄土真宗(一向宗)を広めた。

⑥ 下線部(f)に関連して、弘美さんは、明治政府に不満をもった士族の動きに着目して、次のようにまとめた。P, Qに当てはまることばを、それぞれ漢字四字で書きなさい。

1874年、板垣退助らは、国会開設などの要求を明治政府に出しました。これが、P運動の始まりで、政府を批判する士族が運動の中心にいました。一方、一部の士族は次々と武力反乱をおこしましたが、政府軍に鎮圧されました。これらの反乱のうち、1877年におこった、西郷隆盛を中心とする反乱をQといいます。Q以後は、言論による政府批判が中心となり、P運動がさらに広がりました。

5 中学生の真弓さんは、今日の国際社会に関心をもっている。①～⑥に答えなさい。

① 真弓さんは、日本の領域について、次のようにまとめた。(1)、(2)に答えなさい。

右の図1は、現在の日本の略地図です。図中のAは、日本の南端となる島で (X) といいます。多くの島から形成される日本は、その国土面積と比較すると、広い領域をもつ国家です。
 図2は、江戸時代に、幕府の命令で全国を調査した (あ) が中心となって作成した日本地図の一部です。図中のBの島を (Y) といい、現在、北方領土の一部となっています。

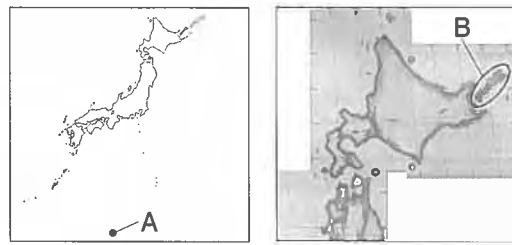


図1 図2

(1) (X)、(Y) に当てはまることばの組み合わせとして最も適当なのは、ア～エのうちではどれですか。一つ答えなさい。

- ア (X) : 沖ノ鳥島, (Y) : 国後島 イ (X) : 与那国島, (Y) : 国後島
 ウ (X) : 沖ノ鳥島, (Y) : 樺太 エ (X) : 与那国島, (Y) : 樺太

(2) (あ) に当てはまる人名として最も適当なのは、ア～エのうちではどれですか。一つ答えなさい。

- ア 狩野永徳 イ 杉田玄白 ウ 黒田清輝 エ 伊能忠敬

② 真弓さんは、国際連合のはたらきについて社会科の先生と話し合った。次は、その会話の一部である。(1)、(2)に答えなさい。



先生

国際連合は、1945年に設立され、世界の平和と安全を維持するために活動してきました。しかし、強い権限をもつ安全保障理事会にはさまざまな課題があります。

安全保障理事会の () は、アメリカなど5か国です。この5か国は、拒否権により安全保障理事会の決定に大きな影響力をもっています。これを安全保障理事会の課題とする意見もあると学習しました。



真弓さん

(1) 先生の発言の下線部に関連して、国際連合のおもな機関の一つで、国際法に従い、国家間の紛争を解決するための裁判をおこなう機関を何といますか。

(2) 真弓さんの発言の () に当てはまることばを、漢字五字で書きなさい。

③ 真弓さんは、国際経済の進展について、次のようにまとめた。(1)、(2)に答えなさい。

今日の世界では、交通・通信手段の発達などにより、人、もの(商品)、お金、情報などが国境をこえて大量に移動しています。こうした動きを (P) といいます。
 経済の面では、日本の企業が新しい市場などを求めて外国に進出したり、外国の企業が日本に進出したりすることが日常的になりました。また、国家間の貿易にも新しい動きがみられます。例えば、2国間以上で自由貿易協定 ((Q)) を結んで、関税や規制を減らし、経済の相互関係を強化することがあげられます。

(1) (P)、(Q) に当てはまることばの組み合わせとして最も適当なのは、ア～エのうちではどれですか。一つ答えなさい。なお、(Q) には自由貿易協定の略称が当てはまる。

- ア (P) : バリアフリー化, (Q) : FTA
 イ (P) : バリアフリー化, (Q) : PKO
 ウ (P) : グローバル化, (Q) : FTA
 エ (P) : グローバル化, (Q) : PKO

(2) 真弓さんのまとめの下線部に関連して、現在、我が国において最も一般的な企業の形態で、出資者から資金を集め、出資者の意見を反映して経営を行い、出資者に投資額に応じて利益を分配する会社を何といますか。

④ 真弓さんは、国際的な結び付きが強くなっている現在、世界の人々が平和に暮らし、共存するためには、何が大切になるのかを考えた。あなたが真弓さんになったつもりで、次の真弓さんの発言の () に当てはまる内容を、「文化」ということばを用いて10字以上14字以内で書きなさい。

世界の人々が平和に暮らし、共存するためには、国際的な交流をすすめるとともに、自国と他国の () ことが大切になると考えます。



⑤ 真弓さんは、南北問題について調べて、次の資料を作成した。この資料から読み取ることのできることを最も適当なのは、ア～エのうちではどれですか。一つ答えなさい。

項目	一人あたりGNI(*) (ドル)	人口 (万人)	人口増加率 (%)	失業率 (%)	輸出(上位2品目)	輸入(上位2品目)	
発展途上国	フィリピン	3 087	9 671	1.8	7.0	機械類, 精密機械	機械類, 原油
	パキスタン	1 263	17 916	1.8	5.1	繊維品, 衣類	石油製品, 機械類
	エチオピア	453	9 173	2.8	5.4	コーヒー豆, 野菜・果実	機械類, 石油製品
	コロンビア	7 443	4 770	1.5	10.4	原油, 石炭	機械類, 自動車
先進国	イギリス	39 248	6 278	0.5	7.9	機械類, 自動車	機械類, 自動車
	カナダ	51 346	3 484	1.1	7.2	原油, 自動車	機械類, 自動車

(注) 統計年次は、人口増加率は2000～12年の平均、その他の項目は2012年。輸出と輸入の順位は金額による。
 (*) GNIは、国民総所得の略称で、国の経済活動の指標。

(「世界国勢図会2013/14年版」及び「同2014/15年版」から作成)

- ア 人口が最も多い国は、人口増加率が最も高く、失業率は最も低い。
 イ 一人あたりGNIは、発展途上国間では最大で20倍以上の差がある。
 ウ 人口増加率が最も高い国は、輸入の上位2品目が農作物である。
 エ 輸出の上位2品目に自動車がある国はすべて、輸入の上位2品目に石油製品がある国より一人あたりGNIが高い。

⑥ 真弓さんは、2013年10月に内閣府(国の行政機関の一つ)が実施した世論調査の結果で、「日本は国際社会でどのような役割を果たすべきか」という質問に対して、「環境・地球温暖化などの問題解決への貢献」を挙げた人の割合が最も高かったことに着目した。(1)、(2)に答えなさい。

(1) 地球温暖化のおもな原因とされ、地球の表面から出る熱の放射をさまたげる性質をもつ二酸化炭素などの気体を総称して何といますか。

(2) 真弓さんは、地球の環境問題に対して、自分に何ができるのかを考えて、次の図3のように[1]～[3]の取り組みを行うことにした。あなたが真弓さんになったつもりで、次の真弓さんの発言の () に当てはまる内容を、「循環」ということばを用いて書きなさい。

環境問題への私の取り組み

- [1] ごみの量を減らします。
 [2] 壊れても修理して使います。
 [3] リサイクルに協力します。


私は、[1]～[3]に取り組むことで、限りある () 社会の形成に貢献したいです。



図3

受検 番号	(算用数字)	志願校	
----------	--------	-----	--

解答用紙



1	①	
	②	大陸
	③	
	④	文明
	⑤	
	⑥	記号 理由

2	①	
	②	
	③(a)	
	③(b)	
	④ I	
	④ II	
⑤		

3	①(1)	
	①(2)	
	①(3)	マップ
	②(1)	
	②(2)	

4	①	
	②	
	③	→ → →
	④	
	⑤	
	⑥(P)	
⑥(Q)		

5	①(1)	
	①(2)	
	②(1)	
	②(2)	
	③(1)	
	③(2)	会社
	④	
	⑤	
	⑥(1)	
	⑥(2)	