




社 会 (45分)

1 中学生のもえさんのクラスでは、歴史学習のまとめとして、班ごとにテーマを決めて発表資料を作成した。①～⑤に答えなさい。

① 次は、「古代国家の形成」をテーマにした1班の表の一部である。(ア)、(イ)に答えなさい。

時代	弥生時代	(a) 古墳時代 飛鳥時代	奈良時代	平安時代
政治の様子	各地に小さく(国)が出現し、やがて大和政権(王権)がつけられた。		しだいに国家の仕組みが整えられ、その後、天皇・貴族の政治が展開した。	
代表的な文化財				のりしろ

(ア) 下線部(a)に関して、1班は学校の近くにある古墳を訪問した。現地の解説によると、古墳がつけられたころ、朝鮮半島や中国から我が国に移り住み、さまざまな技術や文化を伝えた人々が増えたことがわかった。こうした人々を何といいますか。

(イ) 写真1の建物は、浄土へのあこがれを背景に建てられたものであり、京都府宇治市にある。1班はこの建物が建てられた時代について、次の手順で発表することにした。 (X)、 (Y) に当てはまることばの組み合わせとして適当なのは、(1)～(4)のうちではどれですか。一つ答えなさい。



写真1

写真1を、作成した表の (X)時代の代表的な文化財の欄に貼り、この建物が建てられた時期の文化の特色を「 (Y)」と説明する。

- (1) (X) : 奈良, (Y) : 大陸の文化の影響を受けた国際色豊かな文化
- (2) (X) : 奈良, (Y) : 我が国の自然・風土や生活にあった文化
- (3) (X) : 平安, (Y) : 大陸の文化の影響を受けた国際色豊かな文化
- (4) (X) : 平安, (Y) : 我が国の自然・風土や生活にあった文化

② 次は、「武家社会の展開」をテーマにした2班の2枚のカードである。カードは全部で6枚作成した。(ア)～(ウ)に答えなさい。

【鎌倉幕府の政治】

源頼朝の死後、鎌倉幕府の実権は執権の北条氏がにぎった。1221年のでは、幕府に攻撃をしかけてきた後鳥羽上皇の軍をやぶり、西日本にも幕府の支配力を強めた。

【江戸幕府の大名支配】

将軍から1万石以上の領地をあたえられた武士を大名という。江戸幕府は、全国に大名をたくみに配置し、(b)さまざまな法や制度などにより大名を厳しく統制した。

(ア) に当てはまることばは、(1)～(4)のうちではどれですか。一つ答えなさい。

- (1) 保元の乱 (2) 関ヶ原の戦い (3) 承久の乱 (4) 壬申の乱

(イ) 下線部(b)について、2班は次のように具体例をあげて説明した。 に当てはまることばを書きなさい。

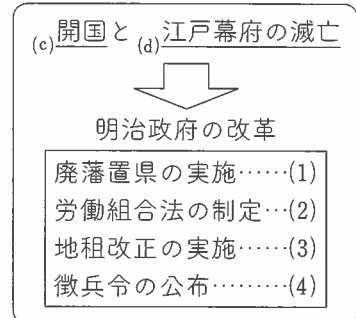
幕府は参勤交代の制度(きまり)を定めました。この制度(きまり)により、大名は、おもに1年おきに、 ことになり、大きな負担を強いられました。

(ウ) 2班の残りの4枚のカードは、それぞれ次の(1)～(4)のタイトルと内容のカードであった。この(1)～(4)を、年代の古いものから順に並ぶように番号で答えなさい。

- (1) タイトルを【足利義満の外交】として、^{かんこう}勘合貿易のはじまりについてまとめたカード
- (2) タイトルを【豊臣秀吉の政治】として、^{たいこう}太閤検地と^{かたながり}刀狩についてまとめたカード
- (3) タイトルを【応仁の乱】として、京都での争乱が全国に広がった様子をまとめたカード
- (4) タイトルを【元の襲来】として、御家人たちと元軍の戦いについてまとめたカード

③ 次は、「江戸から明治へ」をテーマにした3班の図の一部である。(ア)～(ウ)に答えなさい。

(ア) 下線部(c)に関して、この時期に結ばれた日米修好通商条約は、我が国にとって不平等な内容を含んでいた。アメリカに領事裁判権(治外法権)を認めていたことのほかに、我が国にとって貿易の面で不平等であったことを、解答用紙の書き出しに続けて書きなさい。



(イ) 下線部(d)に関して、3班は当時の混乱した状況を説明するため、長州藩がイギリスなど4か国の艦隊と戦って、砲台を占領されたときの様子を示す写真2を取り上げた。写真2の中のできごとがおきた場所として適当なのは、(1)～(4)のうちではどれですか。一つ答えなさい。

- (1) 鹿児島 (2) ^{しもだ}下田 (3) 長崎 (4) 下関

(ウ) ある班員は、自分たちの図に誤りがあることに気づいた。明治政府の改革として適当でないのは、図中の(1)～(4)のうちではどれですか。一つ答えなさい。



写真2

④ 次は、「大正から昭和初期の我が国と世界」をテーマにした4班の年表の一部である。

(ア)、(イ)に答えなさい。

年	おもなできごと
1914	第一次世界大戦がはじまる
1920	国際連盟の成立
1929	世界恐慌がおこる
1931	満州事変がおこる
1937	日中戦争がはじまる
1939	第二次世界大戦がはじまる
1941	太平洋戦争がはじまる
1945	第二次世界大戦がおわる

(ア) (I)の期間に、ロシアでは戦争や皇帝の専制に対する不満などにより革命がおき、ソビエト政府が成立した。この動きに対して、アメリカ、イギリスなどとともに我が国が軍隊を派遣したことを何といえますか。

(イ) (II)の期間におきたできごととして適当なのは、(1)～(4)のうちではどれですか。一つ答えなさい。

- (1) 日本が国際連盟から脱退した。
- (2) 日本がポツダム宣言を受け入れた。
- (3) ベトナム戦争がはじまった。
- (4) 中華人民共和国が成立した。

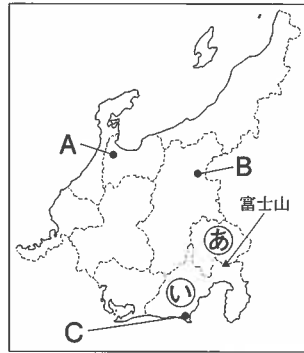
⑤ 次は、もえさんが各班の発表後に書いた感想の一部である。 に当てはまる適当なことばを書きなさい。

発表の感想

- 1班が古墳を訪問していたのは印象的だった。
- 歴史学習で、昔の人が描いた絵、使用した道具などの文化財を収蔵・展示している などの施設を見学することは、貴重な学習体験になると思った。

2 中学生の健太さんと亜紀さんは、中部地方(図)を取り上げ、地域的な特色を調べた。
①～③に答えなさい。

- ① 健太さんと亜紀さんは、世界遺産に登録された富士山について調べた。(ア)、(イ)に答えなさい。
 (ア) 富士山のまたがる、図の㉔と㉕の県名をそれぞれ答えなさい。
 (イ) 国際連合の専門機関の一つで、世界遺産の保全などにもあたる国連教育科学文化機関の略称として適当なのは、(1)～(4)のうちではどれですか。一つ答えなさい。
 (1) WHO (2) UNESCO (3) NGO (4) NPO
- ② 健太さんは、図の都市A～Cの平均気温と降水量(いずれも平年値)、りんごの栽培に適した気候を調べて、次の表とカードにまとめた。(ア)、(イ)に答えなさい。



図

	A	B	C
1月の平均気温(℃)	1.9	-0.5	6.7
7月の平均気温(℃)	24.2	23.7	24.8
年間平均気温(℃)	13.4	11.9	16.4
1月の降水量(mm)	260.4	26.4	85.1
7月の降水量(mm)	232.9	132.3	211.2
年間降水量(mm)	2230.1	890.8	2063.4

(気象庁 Web ページから作成)

健太さんのまとめたカード

りんごの栽培には、涼しい気候がよく、年間平均気温は、6℃以上14℃以下が適している。冬はりんごの木の活動を休ませるため、一定期間の冷え込みが必要になる。また、降水量は少なめがよく、年間降水量が1400 mm以下の場所が適している。

- (ア) 健太さんのまとめたカードの内容に最も合うのは、都市A～Cのうちではどれですか。一つ答えなさい。
 (イ) 健太さんが、都市Aの1月の降水量が多い理由を「冬に季節風がふくことで雪が降るから。」と説明したところ、亜紀さんから「なぜ冬に季節風がふくと雪が降るのか。」という質問があった。この質問に対する答えを、解答用紙の書き出しに続けて書きなさい。
- ③ 亜紀さんは、中部地方にかかわる中京工業地帯と他の三つの工業地帯について、製造品出荷額等と割合を調べて、次の表にまとめた。この表から読み取れる内容として適当なのは、(1)～(4)のうちではどれですか。当てはまるものをすべて答えなさい。

工業地帯	製造品出荷額等	割合				
		金属	機械	化学	食料品	その他
中京工業地帯 (愛知県, 三重県)	48兆1440億円	10.2%	65.7%	6.1%	5.3%	12.7%
京浜工業地帯 (東京都, 神奈川県)	25兆7710億円	9.2%	46.2%	18.5%	10.1%	16.0%
阪神工業地帯 (大阪府, 兵庫県)	30兆1386億円	20.4%	36.6%	17.1%	10.3%	15.6%
北九州工業地帯 (福岡県)	8兆2491億円	16.9%	41.7%	6.4%	18.5%	16.5%

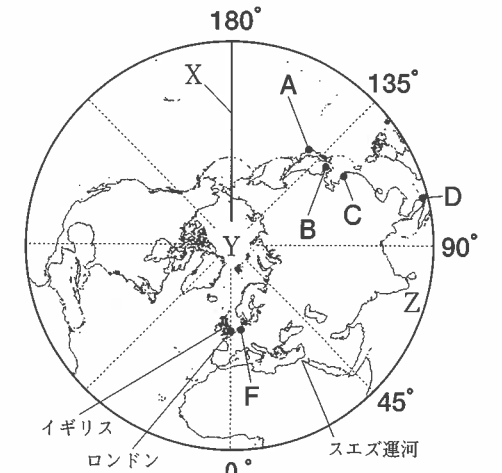
← 重化学工業 (金属, 機械, 化学) 軽工業 (食料品, その他) →

(注) 統計年次は2010年。北九州工業地帯は、北九州工業地域とよぶこともある。(「日本国勢図会2013/14年版」から作成)

- (1) 四つの工業地帯のすべてで、製造品出荷額等に占める軽工業の割合は機械の割合よりも少ない。
 (2) 四つの工業地帯のすべてで、製造品出荷額等に占める重化学工業の割合は70%を超えている。
 (3) 四つの工業地帯の中で、製造品出荷額等が最も大きいのは、中京工業地帯である。
 (4) 四つの工業地帯の中で、製造品出荷額等に占める化学の割合が最も大きいのは、京浜工業地帯である。

3 次の図1は北極を中心として北半球を描いた略地図であり、図2は緯度0度から南緯60度までの南半球を描いた略地図である。①～④に答えなさい。なお、図1、図2の略地図のあらわし方と縮尺は異なるが、どちらも経線は45度間隔である。

- ① 図1のイギリスについて、(ア)、(イ)に答えなさい。
 (ア) イギリスは、現在、ヨーロッパの20か国以上が加盟している地域統合の一員である。政治、経済、社会などの幅広い分野で結び付きを強めているこの地域統合を何といいますか。
 (イ) 東京が12月24日の午後6時のとき、イギリスのロンドンは何月何日の何時ですか。時刻については午前または午後を用いて答えなさい。



(注) 経線は北緯80度までを描いている。

図1

- ② 図1のXは180度の経線である。図2で180度の経線は、(1)～(4)のうちどれですか。一つ答えなさい。
- ③ 先進国(先進工業国)の多くは、図1に示された北半球にあり、発展途上国の多くは、赤道付近から南半球にかけて存在するが、先進国(先進工業国)と発展途上国の経済格差とそこから生じるさまざまな問題を総称して何といいますか。

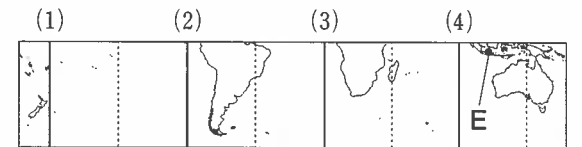
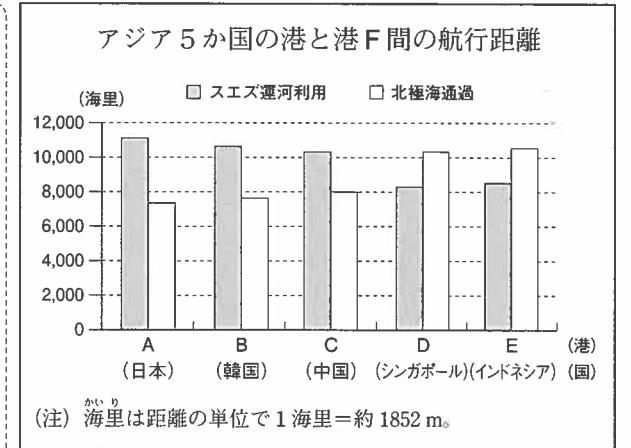


図2

- ④ 次は、北極海(図1のY)に関する文章と、アジア5か国の港(図1のA～D、図2のE)と図1の港F間の航行距離をまとめた資料である。□(a)には、図1のZで示された大洋の名称を、□(b)には、資料から当てはまるすべての国を答えなさい。

アジア5か国の港A～Eから、それぞれ船で港Fに向かうには、通常、□(a)から図1のスエズ運河を利用する航路を通る。
 近年、北極海を通過してアジアとヨーロッパを結ぶ航路が注目されつつある。
 アジア5か国の港A～Eから、北極海を通過して、それぞれ港Fに向かう場合、5か国のうち、□(b)は、スエズ運河を利用する場合よりも航行距離を短縮できることが資料からわかる。



(注) 海里は距離の単位で1海里=約1852m。

資料

(注) スエズ運河はエジプト北東部にある運河。運河とは、陸地を掘って通した水路のこと。

(北海道建設部空港港湾局物流港湾課「北極海航路可能性調査事業委託業務報告書」から作成)

4

中学生の太郎さんの住むまちでは近く市長選挙がある。太郎さんは、この選挙に関心を持っている。①～⑤に答えなさい。

- ① 太郎さんは、現在の選挙の原則を調べて、次のようにまとめた。〔X〕、〔Y〕に当てはまることばの組み合わせとして適当なのは、(1)～(4)のうちではどれですか。一つ答えなさい。

一定の年齢に達したすべての国民に選挙権が認められることを〔X〕選挙といいます。一人が一票を持ち、〔Y〕投票が行われます。
地方公共団体における首長（市長など）と議会の議員は、有権者の直接選挙により選出されます。

- (1) 〔X〕：制限、〔Y〕：無記名で (2) 〔X〕：制限、〔Y〕：記名して
(3) 〔X〕：普通、〔Y〕：無記名で (4) 〔X〕：普通、〔Y〕：記名して

- ② 太郎さんは、市長に期待することを父から聞いた。次に示した父の話について、(ア)～(ウ)に答えなさい。

生活や産業の基盤となる^(a)道路、公園、学校などの整備に積極的に取り組んでほしい。また、^(b)中小企業の支援にも力を入れてほしい。このまちには独自の技術を持つ中小企業が少なくない。市からの支援で中小企業の活動が活性化すれば、まちの発展につながるだろう。

- (ア) 下線部(a)に関して、おもに国や地方公共団体が整備にあたる公共施設のことを何といいますか。解答用紙に合わせて、当てはまることばを漢字二字で書きなさい。

- (イ) 下線部(b)に関して、右の資料は、^{ひがしおおさか}東大阪市議会が、市内の中小企業を支援するために制定した法（きまり）の一部である。資料の〔 〕に当てはまる、地方公共団体が制定し、地方公共団体でのみ適用される法（きまり）を何といいますか。

- (ウ) 右の資料の下線部(c)に関して、アルバイト、派遣労働者（派遣社員）、契約労働者（契約社員）などは、近年増加する傾向にある。我が国の労働者のうち約3分の1を占め、正社員とは異なる、こうした雇用形態のことを何といいますか。

東大阪市中小企業振興〔 〕

……小規模企業者を中心とする本市の中小企業は、地域経済を支える本市の重要な存立基盤であるとともに、熟練の技術を引き継ぎ、産業を活性化させ、市民の^(c)雇用やまちのにぎわいを創出する源です。……

ここに、中小企業の振興を市政の重要な柱として位置付けるとともに、本市の中小企業の振興に関する基本理念及び施策等を定め、もって地域経済を活性化し、豊かで住みよいまちの実現に寄与するため、この〔 〕を制定します。

(東大阪市 Web ページから引用)

- ③ 太郎さんは新聞を読み、市長選挙の立候補予定者の一人が工業団地の造成によるまちの発展を訴えていることを知った。開発などにあたって、事業の規模が一定の基準を超える場合、その事業が環境にどのような影響を及ぼすかを事前に調査することを何といいますか。

- ④ 太郎さんは、地方公共団体における首長と議会は、一方が強くなりすぎないように、互いを抑制し、^{きんこう}均衡を保つ関係にあることを調べた。この関係について、首長と議会のそれぞれが持つ抑制の権限を一つずつあげて、解答用紙の書き出しに続けて書きなさい。

- ⑤ 太郎さんは、地方選挙に関する資料を集めてノートにまとめた。(ア)～(ウ)に答えなさい。

■統一地方選挙について
地方公共団体の首長と議会の議員の選挙を全国的に期日を統一して行うのが統一地方選挙である。1947年から4年ごとに行われている。

資料1は、これまでに17回行われてきた統一地方選挙の投票率の推移を示したものである。いずれの選挙も投票率は〔d〕年をピークに下降傾向を示していることがわかる。

■投票に関する意識調査
次の二つの資料は、有権者を対象とした2011年の統一地方選挙に関する意識調査の一部である。

資料2は、投票に対する三つの考え方の中から自分の考え方に近いものを一つ答えてもらい、2007年の同様の調査と比較したものである。

資料3は、資料2の2011年の回答者について、統一地方選挙における投票行動を調査したものである。

資料1

考え方	2007年 (%)	2011年 (%)
投票することは国民の義務である	58.4%	53.1%
投票することは、国民の権利であるが、棄権すべきではない	23.4%	24.1%
投票する、しないは個人の自由である	17.1%	22.3%

資料2

考え方	投票した (%)	投票しなかった (%)
投票することは国民の義務である	81.2%	18.8%
投票することは、国民の権利であるが、棄権すべきではない	83.3%	16.7%
投票する、しないは個人の自由である	36.9%	63.1%

資料3

(資料1～資料3は、財団法人 明るい選挙推進協会「第17回統一地方選挙全国意識調査」から作成)

■地方選挙の意義
住民が地域の問題を自らの意思と責任で解決していくことを地方〔h〕という。地方公共団体の首長と議会の議員をどちらも住民が直接選ぶことは、地方〔h〕の特徴の一つであり、選挙は住民にとって自らの意思を政治に反映させる大切な機会である。

- (ア) 〔d〕に当てはまる数字を書きなさい。
(イ) 太郎さんは、資料2と資料3から読み取ったことを次の〈条件〉に従って、〔 〕のようにまとめた。〔e〕～〔g〕に〈条件〉で定めた略称を書きなさい。

- 〈条件〉投票に対する考え方は、次の略称を用いる。
- 「投票することは国民の義務である」は「義務」を略称とする。
 - 「投票することは、国民の権利であるが、棄権すべきではない」は「権利」を略称とする。
 - 「投票する、しないは個人の自由である」は「自由」を略称とする。

- 【1】投票に対する考え方を2007年の調査と比較したとき、2011年の調査で割合が増加したのは「〔e〕」と「〔f〕」である。また、2007年と2011年のどちらの調査でも、割合が最も高いのは「〔g〕」である。
- 【2】2011年の回答者の投票行動では、「〔f〕」または「〔g〕」と回答した人が投票した割合はどちらも80%を超えているのに対して、「〔e〕」と回答した人が投票した割合は低いことがわかる。有権者の投票行動は、投票に対する考え方で違いがあると考えられる。

- (ウ) 〔h〕に当てはまることばを漢字二字で書きなさい。

受検 番号	(算用数字)	志願校	
----------	--------	-----	--

解答用紙



1 ①(ア) ①(イ)

②(ア) ②(イ)

②(ウ) → → →

③(ア) 我が国に

③(イ) ③(ウ)

④(ア) ④(イ)

⑤

2 ①(ア)㉞ 県 ①(ア)㉟ 県

①(イ) ②(ア) 都市

②(イ) 季節風が日本海をわたるときに

③

3 ①(ア)

①(イ) 月 日の 時 ②

③ ④(a)

④(b)

4 ① ②(ア) 資本 ②(イ)

②(ウ) ③

④ 議会は、首長に対して

⑤(ア) 年

⑤(イ) (e) (f) (g)

⑤(ウ)