

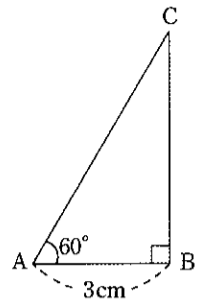
数 学 (45分)

注意 1 答えに $\sqrt{\quad}$ が含まれるときは、 $\sqrt{\quad}$ をつけたままで答えなさい。また、 $\sqrt{\quad}$ の中の数は、できるだけ小さい自然数にしなさい。
 2 円周率は π を用いなさい。

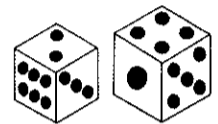
1 次の①～⑨の に適当な数または式を書き入れなさい。

- ① $4 - (-2)$ を計算すると になる。
- ② $(-3) \times (-6)$ を計算すると になる。
- ③ $10ab \div (-2a)$ を計算すると になる。
- ④ $3(2a - b) - 4(a - b + 1)$ を計算すると、
 になる。
- ⑤ $(\sqrt{3} - 1)(\sqrt{3} + 4) - \sqrt{12}$ を計算すると になる。
- ⑥ 方程式 $(x - 3)(x + 3) = 6x - 2$ の解のうち、
正のものは、 $x =$ である。
- ⑦ 2つの関数 $y = ax^2$ と $y = 4x + 1$ について、 x の値が
1から5まで増加するときの2つの関数の変化の割合が等しい。
このとき、定数 a の値は である。

- ⑧ 右の図のような、 $AB = 3\text{cm}$ 、
 $\angle A = 60^\circ$ 、 $\angle B = 90^\circ$ の直角三
角形 ABC がある。この三角形を
辺 BC を軸として1回転させてで
きる立体の体積は cm^3 で
ある。




- ⑨ 右の図のような、正しく作られた大小2つのさいころを同時
に投げるとき、出る目の数の和を X とする。 $X = 6$ となる確率
は (ア) であり、 $7 < X < 10$
となる確率は (イ) である。



2 美和さんが通っている中学校では、3月のある日の午前中に「3年生を送る会」を予定している。1, 2年生の全6クラスで出し物の希望調査を行ったところ、劇を希望するクラスが2クラス、合唱を希望するクラスが4クラスであった。そこで、この会の実行委員である美和さんたちは、話し合いの結果、1, 2年生の合計6クラスの出し物の進行の案を、次の[I]～[IV]の条件で作ることにした。

- [I] 1, 2年生のすべてのクラスは、それぞれ希望どおり「劇」または「合唱」のどちらかを行う。
- [II] 午前9時ちょうどに最初のクラスが発表を始め、午前10時30分に最後のクラスの発表が終了する。
- [III] 「劇」と「合唱」の発表時間はそれぞれ一定とし、「劇」の発表時間は「合唱」の発表時間の1.5倍とする。
- [IV] 幕間(出し物が終わって、次の出し物が始まるまでの間)は4分間とする。



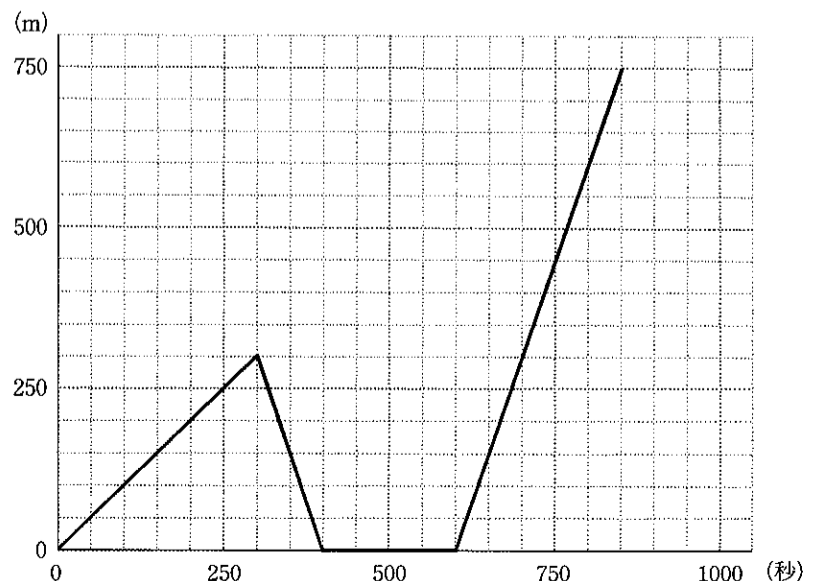
このとき、劇と合唱の発表時間をそれぞれ何分間に計画すればよいか。答えを求めるまでの過程も書いて答えなさい。

3 中学校3年生の一郎さんと、一郎さんの弟で中学校1年生の次郎さんは、自宅から中学校まで同じ通学路を徒歩で通っている。ある朝、一郎さんは自宅から歩いて学校へ向かったが、途中で忘れ物があることに気がついた。そこで、すぐに自宅に走って帰り、忘れ物を探した後、再び走って、学校まで行った。

右の図は、一郎さんがこの朝、最初に自宅を出発してからの時間と、自宅からの距離との関係をグラフに表したものである。一郎さんと次郎さんの歩く速さ、および一郎さんの走る速さはそれぞれ一定であるものとする。また、自宅から学校までの通学路は一直線になっているものとする。

このとき、次の①、②の に適当な数を書き入れなさい。

- ① 一郎さんが忘れ物に気がついたのは、最初に自宅を出発してから (ア) 秒後であり、一郎さんの走る速さは、毎秒 (イ) mである。
- ② 次郎さんはこの朝、一郎さんが最初に自宅を出発してから200秒後に自宅を出発し、一郎さんの歩く速さと同じ速さで歩いて学校へ向かった。このとき、一郎さんが忘れ物を探した後、次郎さんに追いついたのは、自宅から mの地点である。



4 次の図1は花子さんが大学生の兄の太郎さんと交わした会話の一部を示したものであり、図2は花子さんが太郎さんに見せたノートの記述である。これらを読んで、①～③に答えなさい。



図1

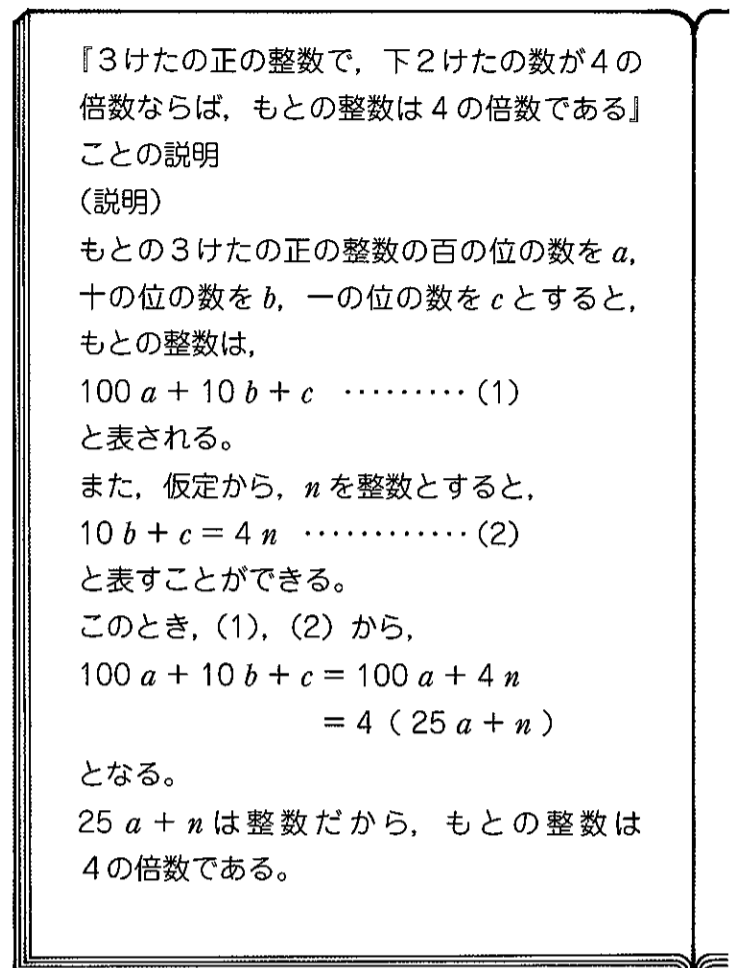


図2

- ① n を整数とするとき、必ず3の倍数となるのは、次の(1)～(5)のうちではどれですか。
(1) $2n + 3$ (2) $3n + 4$ (3) $4n + 6$ (4) $5n + 6$ (5) $6n + 9$
- ② 図1の □ に適当な数を書き入れなさい。
- ③ 太郎さんは下線部で「3けたの正の整数で、百の位の数を2倍した数と下2けたの数との和が7の倍数ならば、もとの整数は7の倍数である」と述べている。このことが成り立つわけの説明を、解答欄の書き出しに続けて書き、完成させなさい。

5 右の図のような、中心が点Oで、線分ABを直径とする円Oがあり、円Oの円周上にある3点A、B、Cを頂点とする△ABCがある。ただし、 $AC < BC$ とする。線分BC上に点Dを、 $AC = CD$ となるようにとる。点Aと点Dを通る直線をひき、円Oとの交点のうち点Aと異なる点をEとする。また、点Eを通り線分ACに平行な直線をひき、線分BCとの交点をF、線分ABとの交点をG、円Oとの交点のうち点Eと異なる点をHとする。点Hと点Oを結ぶ。
このとき、次の①では指示に従って答え、②では □ に適当な数を書き入れなさい。

- ① △ABC の △GHO を証明しなさい。
- ② $AC = 2\text{cm}$ 、 $BC = 6\text{cm}$ であるとき、円Oの半径は □ (ア) cm である。
 $OG =$ □ (イ) cm であり、 $AG : GB =$ □ (ウ) : 1 である。また、
 $EG =$ □ (エ) cm であり、△AEGの面積は □ (オ) cm^2 である。

