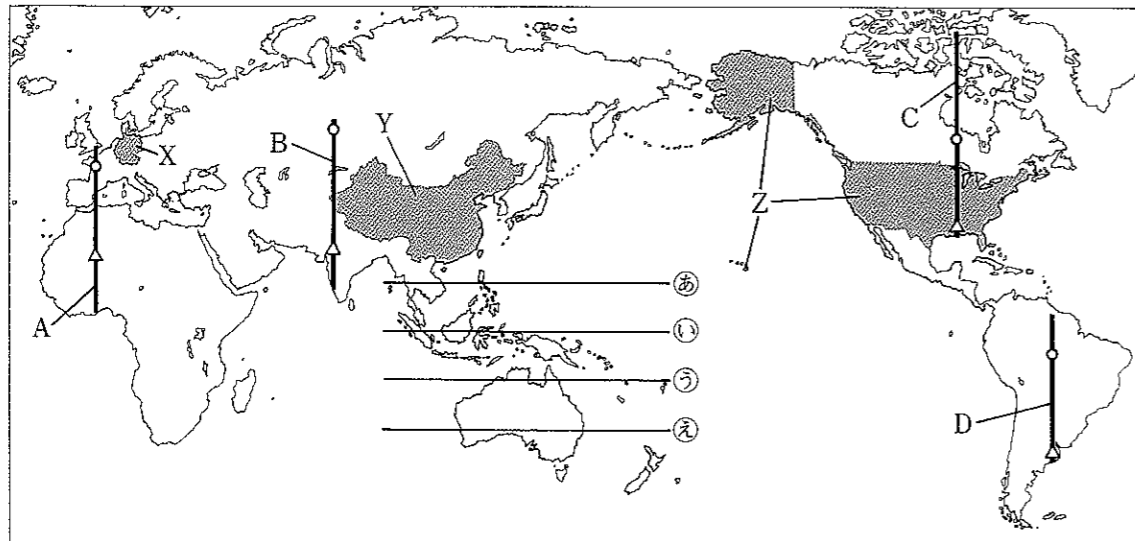


# 社 会 (45分)

1 次の略地図を見て、①～④に答えなさい。



① 略地図中の㉔～㉒は、いずれも、東経90度から東経180度までの範囲の緯線を表しているが、地球上での実際の長さが最も長いのは、㉔～㉒のうちのどれですか。

② 略地図中のA～Dの線は、いずれも経線の一部を表している。(ア)、(イ)に答えなさい。

(ア) 右の図1は、A～Dのいずれかの線の北端から南端までの土地の起伏の様子を表した図であり、この線はある造山帯を横切っている。図1に当てはまる線は、A～Dのうちのどれですか。

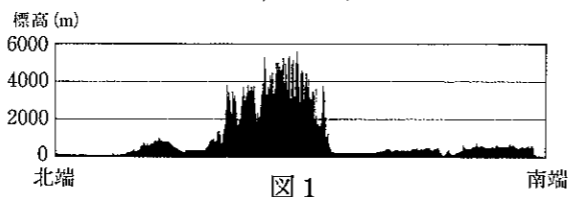


図1

(イ) 次の文は、A～Dのいずれかの線上に位置する○、△の2地点が属する気候帯について述べたものである。これに当てはまる線は、A～Dのうちのどれですか。

世界の気候を、熱帯、乾燥帯、温帯、冷帯(亜寒帯)、寒帯に区分したとき、○地点は温帯に属し、△地点は乾燥帯に属する。

③ 略地図中のXの国は、EU(ヨーロッパ連合)に加盟し、周囲の国々と経済的な結びつきを強めている。EU加盟国のうちの複数の国で流通している、EUの単一(共通)通貨を何といますか。

④ 次の図2と図3を見て、あとの問いに答えなさい。

国別の二酸化炭素排出量の推移

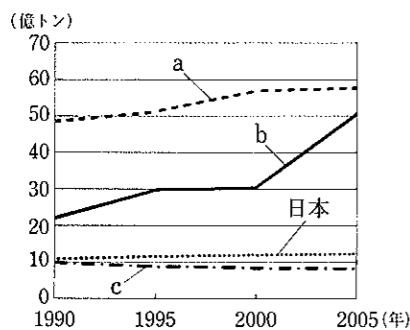


図2

国別の一人当たりの二酸化炭素排出量

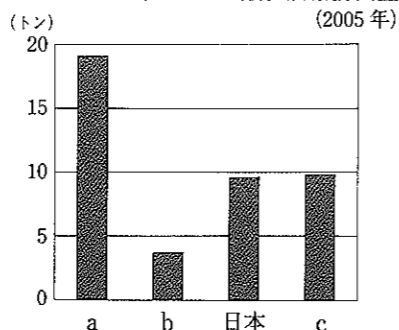


図3

(図2と図3は、「世界の統計2009」,「世界国勢図会 2009/10年版」から作成)

図2と図3中のa～cには、略地図中のX～Zの国のいずれかが当てはまる。次の文章は、bがX～Zのどの国に該当するか予想を立て、それを確かめる道筋を述べたものである。(ア)には当てはまるX～Zのいずれかの記号を、(イ)には当てはまることばを書きなさい。

bは、図2のグラフの変化から考えて、近年、経済発展が著しい(ア)の国と予想できる。図2から読み取ることができる2005年のおよその数値と、図3から読み取ることができるおよその数値から計算すると、各国のおよその(イ)がわかるので、予想した(ア)が正しいと確かめることができる。

2 中学生の健太さんは、富山県を取り上げて地理的特色を調べた。①～③に答えなさい。

① 右の図1は、健太さんが、この県の自然環境、交通、すべての市の人口などについてまとめたものである。(ア)、(イ)に答えなさい。

(ア) 図1から読み取ることができることとして最も適当なのは、(1)～(4)のうちではどれですか。

(1) 標高1600m以上の山が、県の西部に連なっている。

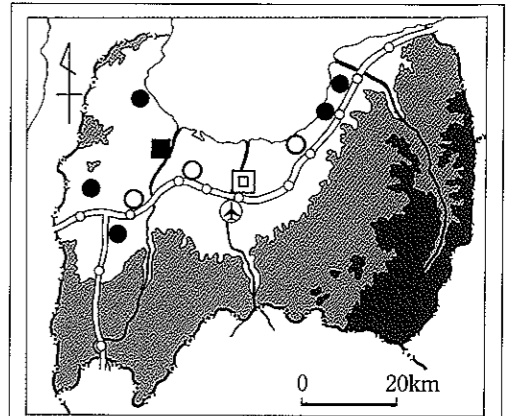
(2) 人口が減少した市の数より、人口が増加した市の数のほうが多い。

(3) 空港は県のほぼ中央に位置し、高速道路に近接している。

(4) 標高200mより高い場所に位置する市役所がある。

(イ) この県の中央部を流れる川の流域では、有害な排水によって、四大公害病(四大公害)の一つである公害病が発生した。この公害病を何といますか。

② 健太さんは、富山県を含む日本海側の3県と、東京都に隣接している3県との産業の違いを調べて、次の図2と図3を作成した。図2は、2007年における工業製造品出荷額について、富山県・新潟県・山形県の3県の合計と、神奈川県・埼玉県・千葉県との3県の合計を表したものである。また、図3は、同じ3県ごとに合計した、2007年における農産物別生産額の内訳を表したものである。富山県・新潟県・山形県の3県を表しているのは、(1)～(4)のうちのどの組み合わせですか。



人口(2005年)	人口増加	人口減少
30万人以上の市	回	
10～30万人の市		■
10万人未満の市	○	●

(注) 回、○、■、●は、市役所の所在地を示している。また人口増加、人口減少は、国勢調査に基づいて、1995年と2005年を比較したものである。

— 県界(県境) 主要河川 空港  
 — 高速道路(○はインターチェンジ)  
 ■ 標高1600m以上  
 ■ 標高200～1600m  
 □ 標高200m未満

図1

3県ごとに合計した工業製造品出荷額

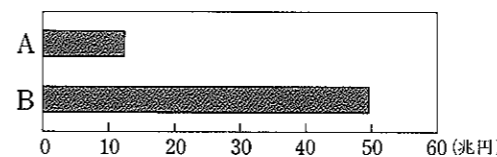


図2

(「データでみる県勢 2010年版」から作成)

3県ごとに合計した農産物別生産額の内訳

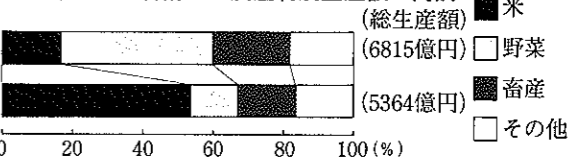


図3

(農林水産省「農林水産統計」から作成)

(1) AとX (2) AとY (3) BとX (4) BとY

③ 健太さんは、富山県内のある市に、3年前に大型ショッピングセンターが出店したことを知った。健太さんは、その出店の前後で、同じ市のある商店街の売上高(額)がどのように変化したか見ようと思い、この商店街の昨年の売上高(額)の資料を入手しようと考えた。しかし、この資料だけでは、その変化を見ることはできない。なぜそのように判断できるか書きなさい。

3 中学生の大樹さんと拓也さんは、夏休みの自由研究で、民衆の動きとその結果や影響について、時代ごとにまとめた表を作成した。次の表1はその一部である。①～④に答えなさい。

表1

時代	民衆の動き	その結果や影響
(a) 室町	幕府に徳政(徳政令)を要求する土一揆が起きるようになった。	借金帳消しの宣言が行われる地域も見られた。
江戸	島原・天草の一揆(島原・天草の乱)が起きた。	この事件の後、幕府は宗門改めなどによって、(b)禁教を徹底した。
(c) 大正	米の安売りを求める事件が起き、全国的な騒動(米騒動)につながった。	政府は軍隊を出動させて、騒動を鎮めたが、当時の内閣が倒れた。
昭和	小作争議や労働争議が激しさを加えていった。	社会主義運動の取りしまりが厳しくなる一方、政党政治への不満が高まった。

① 下線部(a)の時代の文化の説明として当てはまるのは、(1)～(4)のうちではどれですか。

- (1) 観阿弥、世阿弥が能楽(能)を大成した。
- (2) 本居宣長が国学を大成した。
- (3) 千利休が茶道(茶の湯)を大成した。
- (4) 尾形光琳が装飾画を大成した。

② 大樹さんは、下線部(b)に関する右の写真の板について、その名称と使う目的を調べた。これについて述べた次の文中の(ア)、(イ)に当てはまることばを書きなさい。



この板は(ア)と呼ばれ、(イ)を発見したり、(イ)ではないことを証明させたりするために使用された。

③ 次の文章は、大樹さんと拓也さんが、下線部(c)の時代に関する右の表2と図を見ながら交わした会話の一部である。(ア)、(イ)に答えなさい。

大樹：表2を見ると、海運会社は、この時期、収入額が増えていることがわかる。

拓也：そうだね。ちょうどこの時期は、セルビア人の一青年によるオーストリア皇太子夫妻暗殺をきっかけに(ア)が始まって、それを背景に、日本は重化学工業が発達し、好景気が続いたって歴史の授業で習ったよね。

大樹：だったら、きっと国民は生活が経済的に豊かになって、喜んでいただと思うな。

拓也：そうかなあ。この図を見ると、必ずしもそうとはいえないと思うけど。

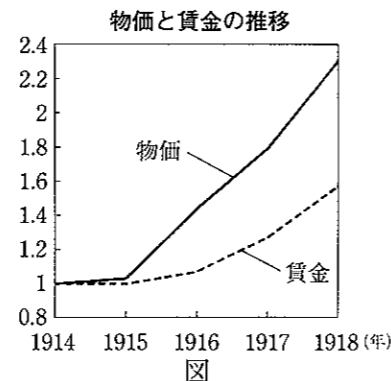
(ア) (ア)に当てはまることばを、漢字七字で書きなさい。

(イ) 下線部に「必ずしもそうとはいえない」とあるが、そのように判断できる理由を、右の図から読み取ることができることに基づいて書きなさい。

表2 海運会社の収入額の推移

	日本郵船	大阪商船
1914年	34 186	19 346
1915年	42 097	23 604
1916年	68 191	43 674
1917年	116 042	72 457
1918年	222 908	167 871

(単位千円)  
〔「明治大正国勢総覧」から〕



〔「大正政治史」から作成〕

(注) 1914年を1としてその後の推移を示したグラフである。

④ 表1中の民衆の動きの背景に関する説明として、いずれの動きにも当てはまらないのは、(1)～(4)のうちではどれですか。

- (1) 自治的な村落(組織)である惣(惣村)がつくられ、農民のまとまりが強まった。
- (2) 不景気が続く中、世界恐慌(世界大恐慌)の影響を受け、いっそう景気が悪化した。
- (3) 天保の飢饉にみまわれ、多くの餓死者が出て、百姓一揆や打ちこわしが起こった。
- (4) ロシア革命に干渉するためにシベリア出兵が行われ、物資が買いしめられた。

4 次の文章は、高校生の明日香さんと、日本の歴史や文化を学ぶためにドイツから来ているアンナさんの会話の一部である。①～④に答えなさい。

明日香：アンナ、日本語が上達したわね。

アンナ：ありがとう。でも、漢字を読んだり書いたりするのは難しい。ひらがなは読めるし、書くのもできるけど。

明日香：漢字は難しいよね。漢字は、昔、朝鮮半島や中国から移り住んできた人々によって伝えられたといわれているんだけど、ひらがなは漢字からつくられたのよ。日本の文化の中には、(a)平安時代の国風文化のような例もあるけど、海外からの影響を受けたものもたくさんあるわ。

アンナ：ドイツからの影響もあるのかな。

明日香：(b)政治に関することだけど、(c)明治時代につくられた大日本帝国憲法は、ドイツ(プロイセン)の憲法を参考にしたのよ。逆に日本の文化が外国に影響を与えた例もあるわ。浮世絵や有田焼がそうよ。

アンナ：思い出した。ドイツにはマイセンの焼き物があるけど、有田焼の影響を受けたと聞いたことがある。

明日香：実はね、有田焼は日本人が独自につくり出したものではなく、(d)豊臣秀吉の朝鮮侵略の際に日本につれてこられた陶工によって始められたともいわれているのよ。

アンナ：そうなんだ。焼き物ひとつとってみても、長い歴史があって、現在と過去がつながっていたり、いろいろな国の文化が交わっていたりすることがよくわかる。



マイセンの焼き物  
(18世紀前半の作品)

① 下線部(a)の仏教についての説明として最もよく当てはまるのは、(1)～(4)のうちではどれですか。

- (1) 浄土信仰(浄土教)が広まり、阿彌陀仏をおさめた平等院鳳凰堂が建てられた。
- (2) 日蓮が、法華経こそが仏の真実の教えであり、題目を唱えれば救われると説いた。
- (3) 聖武天皇が、都に東大寺を建て、また、国ごとに国分寺と国分尼寺をつくらせた。
- (4) 現存する世界最古の木造建築である法隆寺が建てられた。

② 下線部(b)に関して、現在、我が国では政党政治が行われているが、内閣を組織し、政権を担当している政党を、野党といういい方に対して何といいますか。

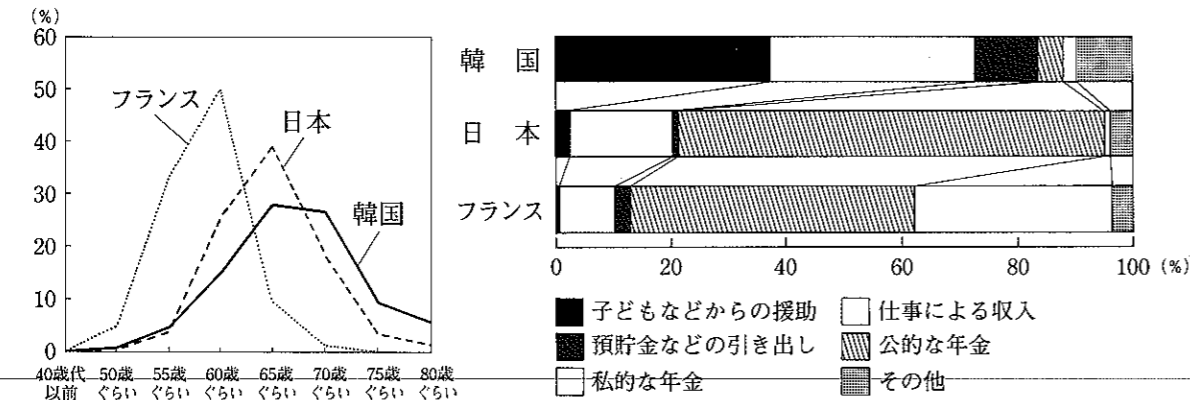
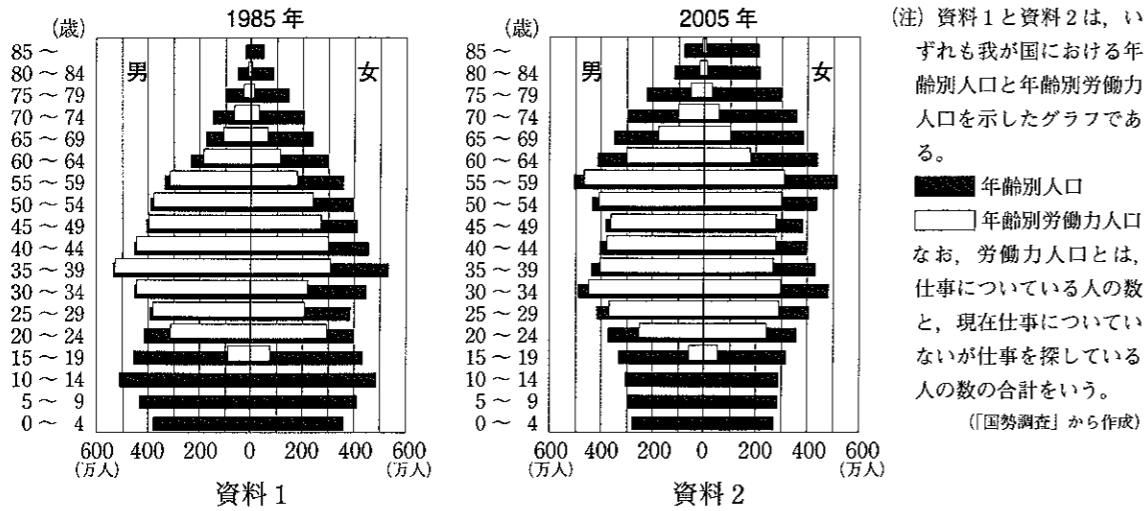
③ 下線部(c)に関して、大日本帝国憲法を制定する上で、ドイツ(プロイセン)の憲法を参考にした理由を説明した次の文中の(ア)に当てはまることばを書きなさい。

ドイツ(プロイセン)は、(ア)の権力(権限)が強いから。

④ 下線部(d)に関して、豊臣秀吉はある王朝の征服をくわだて、その道筋にあたる朝鮮に大軍を派遣した。豊臣秀吉が征服をめざしたこの王朝は、(1)～(4)のうちのどれですか。

- (1) 元 (2) 宋 (3) 清 (4) 明

5 中学生の智子さんのクラスは、公民的分野の学習のまとめとして、班別にテーマを決めて資料を持ち寄り、発表に向けて話し合いを行うことになった。智子さんの班では、「我が国における高齢社会の現状と今後のあり方」をテーマとすることに決め、次の資料1～資料5を持ち寄って話し合った。①～⑤に答えなさい。



『望ましい退職年齢 (収入をともなう仕事を辞める時期は何歳ぐらいが適当か)』に関する回答の割合。60歳以上を対象に調査。  
 (内閣府 平成17年度「第6回高齢者の生活と意識に関する国際比較調査結果」から作成)

『生活の主な収入源 (現在の生活費を何でまかなっているか)』に関する回答の割合。60歳以上を対象に調査。  
 (内閣府 平成17年度「第6回高齢者の生活と意識に関する国際比較調査結果」から作成)

山梨県山梨市では、「おじいちゃん先生・おばあちゃん先生派遣事業」を実施している。これは、市が意欲のある高齢者を「おじいちゃん先生」、「おばあちゃん先生」として登録し、市内の児童センター、学童クラブ、保育所等に派遣するという事業である。  
 「先生」の指導内容としては、昔の遊び、絵手紙の作り方、民謡など多岐にわたっており、年末年始には凧作りや書き初め、しめ縄飾りの授業も行った。  
 実際に派遣されている「先生」に感想を聞くと、絶好の生きがい作りの機会となっている。また、市の担当者によると、この活動により、地域の繋がりの再生にも役立っているという。  
 (内閣府「平成19年版 高齢社会白書」から引用)

① 資料1、資料2の年齢別人口から読み取ることができることとして適当でないのは、(1)～(4)のうちではどれですか。

- (1) 1985年では、女の年齢別人口は、35歳から39歳までの人口が最も多い。
- (2) 2005年では、男の年齢別人口は、60歳から64歳までの人口が最も多い。
- (3) 2005年は、1985年に比べて、9歳以下の人口が減少している。
- (4) 2005年は、1985年に比べて、65歳以上の人口が増加している。

② 智子さんは、資料3と資料4に取り上げてある三か国のデータを比較して、『望ましい退職年齢』と『生活の主な収入源』の間に一定の関係があることに気がついた。この一定の関係を説明した次の文中の□に当てはまることばを書きなさい。

資料4の中で、「その他」を除いて、「子どもなどからの援助」または「□」を『生活の主な収入源』としているという回答の割合が高い国ほど、資料3において、『望ましい退職年齢』について高い年齢を回答する割合が高くなる傾向がある。

③ 資料1～資料4を見ながら話し合いをしているうちに、智子さんは二つの資料を基に次のような意見を出した。まず、智子さんの意見の基になったと考えられる資料の番号を書きなさい。次に、それらの資料が基になっていると判断した根拠を、それらの資料から読み取ることができることに基づいて書きなさい。

今、もし日本で公的な年金がなくなったら、高齢の女性のうち、多くの女性が生活費に困ると思うわ。



智子さん

④ 智子さんは、発表の参考とするために、実際に高齢者の考えを聞こうと思い、祖父と話をした。次の文章は、その会話の一部である。(ア)、(イ)に答えなさい。

智子：公的年金の財源が不足しているなら、消費税率を上げて、みんなで公平に負担すればいいと思うわ。  
 祖父：消費税は、所得税のように所得が多い人ほど税率を高くする課税ではないから、所得が少ない人の意見も聞く必要があると思うよ。

(ア) 我が国の社会保障制度は、次の(1)～(4)の四つの種類に分けられるが、公的年金の制度が該当するのは、(1)～(4)のうちどれですか。

- (1) 公的扶助 (2) 公衆衛生 (3) 社会保険 (4) 社会福祉

(イ) 下線部のような課税の方法(制度)を何といいますか。

⑤ 智子さんたちは、自分たちが考える、高齢者にとって望ましい社会について、次の図のように、三つにまとめることにした。あなたが智子さんたちになったつもりで、次のI、IIの条件を満たすよう、(ア)、(イ)に適切なことばを書きなさい。


I □(ア) は、資料5から読み取って書くこと。  
 II □(イ) は、これまでの学習や、体験から学んだことをふまえながら、高齢者が、心身を健康な状態に保つことができることにつながることをわかるよう、書くこと。ただし、【1】、【2】の内容と異なる内容とすること。

私たちが考える、高齢者にとって望ましい社会

- 【1】 高齢者が、公的年金を受給したり、働くことによって収入を得たりすることによって、生活する上で必要な収入を得ることができる社会
- 【2】 高齢者が、自分の経験や技能を活かすことによって、□(ア)を感じる機会があり、また地域に貢献することができる社会
- 【3】 高齢者が、□(イ)を受けることによって、心身を健康な状態に保つことができる社会

受検 番号	(算用数字)	志願校	
----------	--------	-----	--

# 解答用紙



1

①                       ② (ア)                       ② (イ)

③

④ (ア)                       ④ (イ)

2

① (ア)                       ① (イ)                       ②

③

3

①

② (ア)                       ② (イ)

③ (ア)

③ (イ)

④

4

①                       ②

③                       ④

5

①

②

③ 資料の番号 ,

③ 判断した根拠

④ (ア)                       ④ (イ)  課税

⑤ (ア)

⑤ (イ)