

社 会 (45分)

1 次の①～④に答えなさい。切手の大きさは実物と異なるものもある。

① 右の切手に描かれた金印は、倭の奴国の王が中国に使いを送って得たものといわれている。倭の奴国の王に金印を与えたとされている中国の王朝名(国名)を書きなさい。



② 右の切手に描かれた建物について説明した次の文中の X に、当てはまることばを書きなさい。




この建物は、阿弥陀仏にすがって、死後に極楽 X に生まれ変わりを願う X 信仰 (X 教) を背景として、藤原頼通が宇治に建立したものである。

③ 右の切手に描かれたキャラクターは、1954年の日本映画に、核兵器の一つである水爆の実験により長い眠りから目覚めたという設定で初めて登場した。このキャラクターが映画に登場した時代背景として、最もよく当てはまるのは、(1)～(4)のうちではどれですか。



- (1) 西ドイツと東ドイツの統一が実現する一方で、多くの地域で地域紛争が起こった。
- (2) 帝国主義の国々(列強)が国外に原料や市場を求めて、植民地を広げようと互いに争った。
- (3) 冷たい戦争(冷戦)といわれる、西側陣営の国々と東側陣営の国々との対立が続いた。
- (4) 蒸気機関が機械の動力として実用化され始め、さまざまな機械の発明や改良によって工業生産力が大きく向上した。

④ 右のA、Bの切手を見て、(ア)、(イ)に答えなさい。



- (ア) Aの切手が発行された地域の、現在の県名を書きなさい。
- (イ) A、Bの切手は同じ年に発行された。現在、(ア)の県では、Aの切手を使用することはできないが、Bの切手を使用することはできる。その理由を切手に描かれている発行年にふれながら説明しなさい。

2 我が国の歴史に関する次の表を見て、①～⑤に答えなさい。

| 時 代 | できごと |
|---------|-------------------------------|
| (a) 奈 良 | 都を奈良(平城京)に移した |
| 鎌 倉 | 源頼朝が、 ^(b) 鎌倉幕府を開いた |
| 室 町 | ^(c) 足利尊氏が征夷大將軍となった |
| 江 戸 | 徳川家康が ^(d) 江戸幕府を開いた |
| 明 治 | ^(e) 新政府による改革が行われた |

- ① 下線部(a)の時代の社会のようすとして最もよく当てはまるのは、(1)～(4)のうちではどれですか。
- (1) 農民には、租・庸・調という税のほか、兵役などの負担があった。
 - (2) 有力な農民の指導のもと、惣という自治的な村がつくられた。
 - (3) 領地を与えられるなどの御恩を受けた御家人は、軍役などの奉公を行った。
 - (4) 村では五人組がつくられるとともに、村の有力者が村役人となり、村の運営に当たった。

② 下線部(b)が続いたのは、何世紀から何世紀までかを書きなさい。

③ 下線部(c)のころのできごととして最もよく当てはまるのは、(1)～(4)のうちではどれですか。

- (1) 平将門の乱
- (2) 島原・天草一揆(島原・天草の乱)
- (3) 応仁の乱
- (4) 南北朝の内乱(対立)

④ 下線部(d)に関して、この幕府による支配の説明として適当でないのは、(1)～(4)のうちではどれですか。

- (1) 幕府は重要な都市や鉱山を直接支配し、貨幣の発行権をもっていた。
- (2) 幕府は有力な外様大名を江戸の近くに配置し、監視した。
- (3) 幕府は武家諸法度を制定し、大名の守るべきことを定めた。
- (4) 幕府は参勤交代の制度を定め、大名に江戸と領地を定期的に往復させた。

⑤ 下線部(e)に関して、(ア)～(ウ)に答えなさい。

(ア) 右の写真は、1871年から1873年まで海外に派遣されていたある使節団の代表者等を写したものである。この使節団に参加していない人物は、(1)～(4)のうちではどれですか。



- (1) 岩倉具視
- (2) 大久保利通
- (3) 西郷隆盛
- (4) 伊藤博文

(イ) 次の表は、1868年から1874年までの間に新政府が派遣した留学生の人数を国別に表したものである。表中のYの国と我が国に関係するできごと(1)～(4)を、年代の古いものから順に並ぶように番号で答えなさい。

| 国 | 留学生の人数(人) |
|------|-----------|
| Y | 209 |
| イギリス | 168 |
| ドイツ | 82 |
| フランス | 60 |
| その他 | 31 |

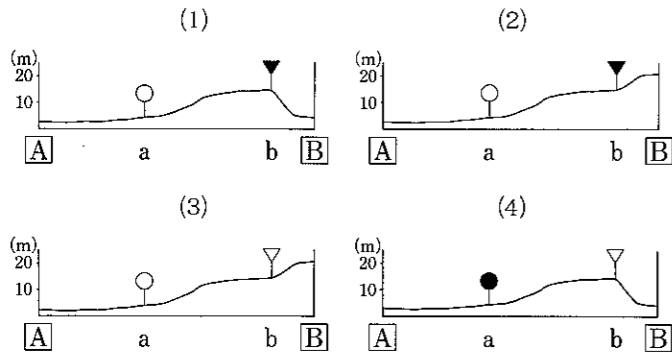
- (1) 我が国は、Yの国で開かれたサンフランシスコ講和会議で独立を回復した。
- (2) 我が国は、Yの国の真珠湾を攻撃し、太平洋戦争が始まった。〔近代日本の海外留学史〕による
- (3) 我が国は、Yの国と修好通商条約を結び、神奈川(横浜)などを開港した。
- (4) 我が国は、Yの国と新しい安全保障条約(改定安全保障条約)を結んだ。
- (ウ) 1875年に我が国とロシアとの間で領土(国境)の画定についての条約が結ばれた。この条約で取り決められた内容を書きなさい。

3 次の①～⑤に答えなさい。

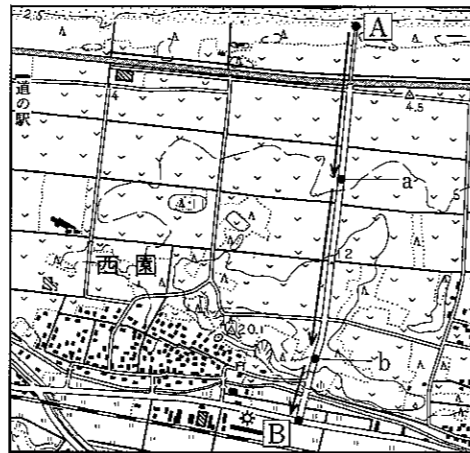
- ① 学校周辺の地域調査を行うときの準備として適当でないのは、(1)～(4)のうちではどれですか。
- (1) 調査目的に基づいて、調べるテーマや調査内容を明確にしておく。
 - (2) 調査したことを記録するため、ノートやカメラなどを準備する。
 - (3) 縮尺5万分の1の地図よりも縮尺の大きな縮尺20万分の1の地図を準備する。
 - (4) 聞き取り調査では、調査目的や調査内容を訪問先に事前に連絡し了解を得る。
- ② 次の文は、地形図の読み取り方についてまとめたものである。文中の□に当てはまることばを漢字三字で書きなさい。

地形図では、土地の高さや起伏のようすは、□から読み取ることができる。

- ③ 次の地形図の[A]の地点から出発し、→の印に沿った道路をa、bの地点を通して[B]の地点まで歩いた。このときの、[A]の地点から[B]の地点までの土地の高さと、a、bそれぞれの地点での道路周辺の土地利用のようすを表した図として最もよく当てはまるのは、(1)～(4)のうちではどれですか。



(注) (1)～(4)の●は田を、○は畑を、▼は針葉樹林を、▽は果樹園を表す。また、縮尺は地形図と同じではない。

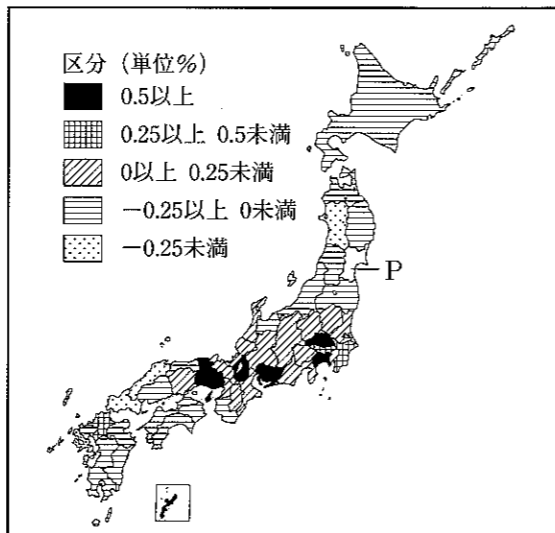


(国土地理院発行の地形図「倉吉」より)

- ④ 次の図は、Pの県を除く各都道府県の1995年から2000年までの年平均人口増加率を区分に従ってぬり分けたものであり、表は、Pの県を含む7県の1995年から2000年までの年平均人口増加率を示したものである。この図と表を見て、(ア)、(イ)に答えなさい。

| 県名 | 年平均人口増加率(%) |
|------|-------------|
| 神奈川県 | 0.59 |
| 千葉県 | 0.44 |
| 宮城県 | 0.31 |
| 栃木県 | 0.21 |
| 茨城県 | 0.20 |
| 福島県 | -0.06 |
| 秋田県 | -0.41 |

(「データでみる県勢第14版」による)

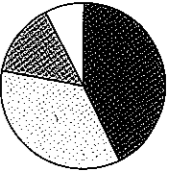


(ア) 図中のPの県について、表をもとに、図の区分に従って解答欄の図をぬりなさい。

(イ) 近畿地方で1995年から2000年までの間に人口が減少した府県の名前を書きなさい。

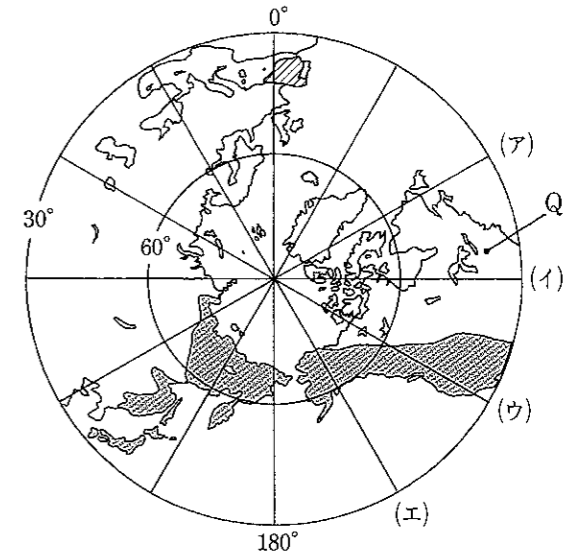
- ⑤ 次の種類のグラフを一つ用いて表現する内容として最もよく当てはまるのは、(1)～(4)のうちではどれですか。

- (1) 耕地面積の推移(変化)
- (2) 農業生産額に占める各種農作物の生産額の割合(比率)
- (3) 火力発電所の分布
- (4) 都道府県別の人口密度



- 4 次の地図は、北極点を中心として描かれた世界地図の一部である。これを見て、①～④に答えなさい。

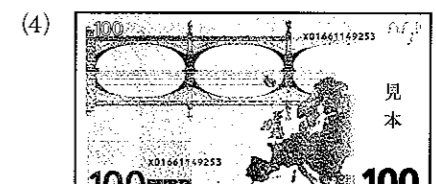

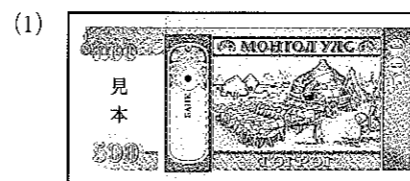
- ① 地図中のQの都市の位置として当てはまるのは、(1)～(4)のうちではどれですか。
- (1) 北緯40度 東経83度
 - (2) 北緯40度 西経83度
 - (3) 南緯40度 東経83度
 - (4) 南緯40度 西経83度



- ② 地図中の経線(ア)～(エ)のうちから、南アメリカ大陸を通るものを選び、記号で答えなさい。
- ③ 地図中の(イ)は、ある造山帯の一部を示している。次の文章中の(a)～(c)に当てはまることばを書きなさい。

(イ)の地域は(a)造山帯とよばれる造山帯に属している。我が国は、この造山帯に属し、大地の動きが活発であるため(b)や(c)などによる自然災害が発生しやすい地域となっており、防災対策が特に必要である。

- ④ 地図中の(ロ)の国が加盟している組織の共通の通貨(単一通貨)に当てはまるのは、(1)～(4)のうちではどれですか。また、この通貨が、現在12か国の共通の通貨として導入されている理由を書きなさい。



(注) (1)～(4)はすべて紙幣の裏面であり、紙幣中の文字は一部削除している。

5 次の文章は、社会科の自由研究のテーマについて、中学生と先生が交わした会話の一部である。これを読んで、①～⑥に答えなさい。

健太：ぼくは、今、国際連合に関心をもっています。(a)国際連合の主要機関の一つでは、常任理事国の数を増やすことが検討されています。日本も常任理事国になる可能性があるかもしれないということが、新聞やテレビで報道されていました。国際連合の果たしている役割などについて調べたいと思っています。

先生：国際連合は、(b)人口問題、環境問題などの国際的な課題に取り組んでいますね。

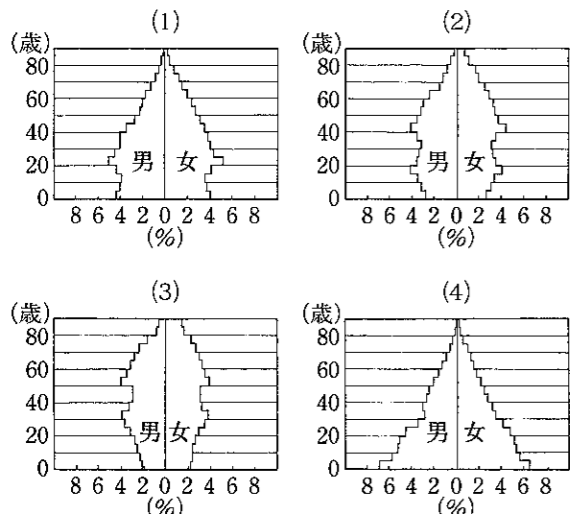
美穂：私は、去年、高齢者福祉施設でのボランティア活動に参加しましたが、社会福祉や(c)社会保険の制度について、もっと詳しく知りたいと思うようになりました。

先生：社会福祉や社会保険の制度について調べるときには、これらの制度が(d)税金によって支えられているという観点からの調査を加えるとよいと思います。納税は国民の義務の一つであり、(e)主権者である国民は、税金の使われ方について関心をもつことが大切です。

大輔：ぼくは、新しく裁判員制度が導入されるということをニュースでよく聞くので、(f)現在の裁判のしくみや裁判員制度という新しい裁判のしくみについて調べたいと思っています。

先生：そうですね。昨年、裁判員法が成立して、抽選で裁判員として選ばれた人が、裁判に参加する制度が実施されることが決まりました。みなさんも20歳になれば、この裁判員に選ばれる可能性があります。新しい制度について十分理解するとともに、自覚をもって責任を果たしていく必要があると思います。

- ① 下線部(a)のうち、5か国の常任理事国と10か国の非常任理事国とで構成され、世界の平和と安全の維持を目的とする機関の名前を書きなさい。
- ② 下線部(b)に関して、次の表と図は1950年、1970年、1990年、2003年における我が国の年齢別人口構成を示したものである。我が国の2003年の年齢別人口構成に当てはまる図は、(1)～(4)のうちのどれですか。



| | 0～14歳 | 15～64歳 | 65歳以上 |
|-------|-------|--------|-------|
| 1950年 | 35.4% | 59.7% | 4.9% |
| 1970年 | 23.9% | 69.0% | 7.1% |
| 1990年 | 18.2% | 69.5% | 12.1% |
| 2003年 | 14.0% | 66.9% | 19.0% |

(注) 統計上合計は必ずしも100%にならない。
 (「数字でみる日本の100年改訂第4版」, 「日本国勢図会2004/05年版」による)

- ③ 下線部(c)に関して、40歳以上の国民が負担する保険料と税金と利用者の負担によって、高齢者等が、施設や家でサービスを受けることができる我が国の制度は、(1)～(4)のうちのどれですか。

- (1) 医療保険 (健康保険) 制度
- (2) 年金保険制度
- (3) 雇用保険制度
- (4) 介護保険制度

- ④ 下線部(d)に関して、次の図1は我が国の一般会計歳出 (支出) の内容別割合の変化を、図2は一般会計歳入 (収入) の内容別割合の変化を示したものである。これらを見て、(ア)、(イ)に答えなさい。

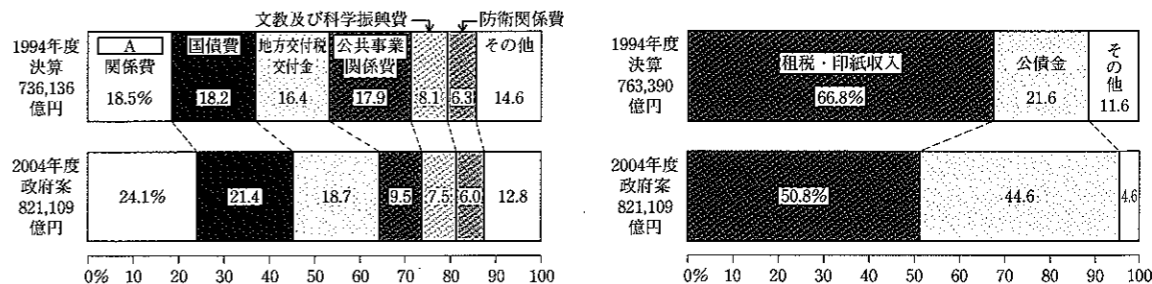


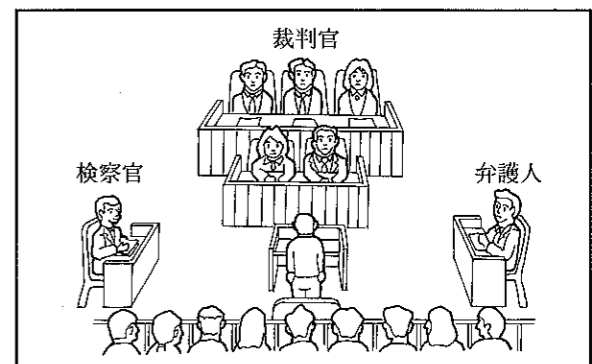
図1 図2
 (「数字でみる日本の100年改訂第4版」, 「日本国勢図会2004/05年版」による)

- (ア) 図1の **A** に当てはまることばを漢字四字で書きなさい。
- (イ) 図2から、1994年度と2004年度を比べると、公債金の割合が大きく増加していることがわかる。次の文中の に、当てはまることばを書きなさい。

租税収入だけで必要な支出がまかなえないとき、政府は国債を発行して、収入の不足を補うことがあるが、国債は、 ので、その発行は慎重にしなければならない。

- ⑤ 下線部(e)に関して、(ア)、(イ)に答えなさい。
 - (ア) 国民主権は、日本国憲法の三つの基本原理 (基本原則) の一つであるが、この場合の主権とは何かを説明しなさい。
 - (イ) 日本国憲法公布より前に起きたA～Cのできごとを年代の古いものから順に正しく並べているのは、(1)～(4)のうちのどれですか。
 - A 吉野作造が民本主義を唱えた。
 - B 国会期成同盟がつけられた。
 - C 大日本帝国憲法が公布された。
- (1) A→B→C (2) A→C→B (3) B→A→C (4) B→C→A

- ⑥ 下線部(f)に関して、次の図は我が国の裁判所の法廷のようすを表したものである。この図の裁判の種類として、最もよく当てはまるのは、次の(1)～(4)のうちのどれですか。また、そのように判断した理由を図の中から読み取って書きなさい。
- (1) 民事裁判 (2) 刑事裁判
 (3) 行政裁判 (4) 弾劾裁判



| | | | |
|----------|--------|-----|--|
| 受検 番号 | (算用数字) | 志願校 | |
|----------|--------|-----|--|

解答用紙

| |
|---|
| ※ |
|---|

1

① ② ③

④ (ア) 県

④ (イ)

2

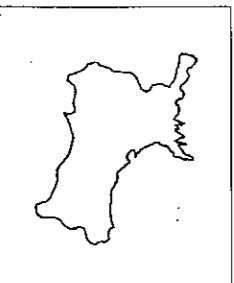
① ② 世紀から 世紀まで ③

④ ⑤ (ア) ⑤ (イ) → → →

⑤ (ウ)

3

① ② ③

④ (ア)  ④ (イ) ⑤

4

① ② ③ (a)

③ (b) ③ (c)

④ 理由

5

①

② ③

④ (ア) 関係費

④ (イ)

⑤ (ア)

⑤ (イ)

⑥ 理由